

NOMBRE:

FECHA:


MS6

ÁREA DE INTERVENCIÓN: Escritura y M.semántica.

B1


INSTRUCCIONES: Escribe la hora que marca el reloj.

Ejemplo



3:00

1



:

2



:

TE 1:

TE 2:

NOMBRE:

FECHA:


MS6

ÁREA DE INTERVENCIÓN: Escritura y M.semántica.

B2

INSTRUCCIONES: Escribe la hora que marca el reloj.

Ejemplo




1:30

1



:

2



:

TE 1:

TE 2:

NOMBRE:

FECHA:


MS6

ÁREA DE INTERVENCIÓN: Escritura y M.semántica.

B3

INSTRUCCIONES: Escribe la hora que marca el reloj.

Ejemplo



9:00

1



:

2



:

TE 1:

TE 2:

NOMBRE:

FECHA:


MS6

ÁREA DE INTERVENCIÓN: Escritura y M.semántica.

B4

INSTRUCCIONES: Escribe la hora que marca el reloj.

Ejemplo



4:30

1



:

2



:

TE 1:

TE 2:

NOMBRE:

FECHA:


MS6

ÁREA DE INTERVENCIÓN: Escritura y M.semántica.

B5

INSTRUCCIONES: Escribe la hora que marca el reloj.

Ejemplo




8:30

1



:

2



:

TE 1:

TE 2:

NOMBRE:

FECHA:

MS6

ÁREA DE INTERVENCIÓN: Escritura y M.semántica.

B6


INSTRUCCIONES: Escribe la hora que marca el reloj.

Ejemplo



6:00

1



:

2



:

TE 1:

TE 2:

NOMBRE:

FECHA:


MS6

ÁREA DE INTERVENCIÓN: Escritura y M.semántica.

B7

INSTRUCCIONES: Escribe la hora que marca el reloj.

Ejemplo




2:00

1



:

2



:

TE 1:

TE 2:

NOMBRE:

FECHA:

MS6

ÁREA DE INTERVENCIÓN: Escritura y M.semántica.

E1

INSTRUCCIONES: Escribe la hora que marca el reloj.

1



2



3



4



5



6



1:

2:

3:

4:

5:

6:

NOMBRE:

FECHA:

MS6

ÁREA DE INTERVENCIÓN: Escritura y M.semántica.

E2

INSTRUCCIONES: Escribe la hora que marca el reloj.

1



2



3



4



5



6



1:

2:

3:

4:

5:

6:

NOMBRE:

FECHA:

MS6

ÁREA DE INTERVENCIÓN: Escritura y M.semántica.

E3

INSTRUCCIONES: Escribe la hora que marca el reloj.

1



2



3



4



5



6



1:

2:

3:

4:

5:

6:

NOMBRE:

FECHA:

MS6

ÁREA DE INTERVENCIÓN: Escritura y M.semántica.

E4

INSTRUCCIONES: Escribe la hora que marca el reloj.

1



2



3



4



5



6



1:

2:

3:

4:

5:

6:

NOMBRE:

FECHA:

MS6

ÁREA DE INTERVENCIÓN: Escritura y M.semántica.

E5

INSTRUCCIONES: Escribe la hora que marca el reloj.

1



2



3



4



5



6



1:

2:

3:

4:

5:

6:

NOMBRE:

FECHA:

MS6

ÁREA DE INTERVENCIÓN: Escritura y M.semántica.

E6

INSTRUCCIONES: Escribe la hora que marca el reloj.

1




2



3



4



5



6



1:

2:

3:

4:

5:

6:

NOMBRE:

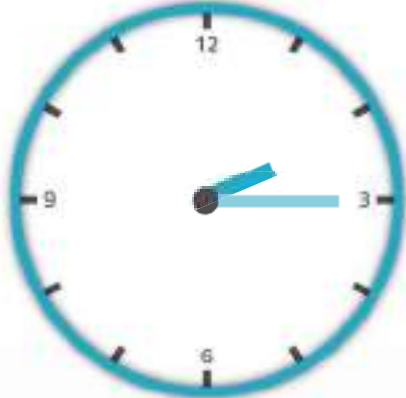





FECHA:

MS6

ÁREA DE INTERVENCIÓN: Escritura y M.semántica.

M1

INSTRUCCIONES: Escribe la hora que marca el reloj.

<p>1</p>  <p>□ :</p>	<p>2</p>  <p>□ :</p>
<p>3</p>  <p>□ :</p>	<p>4</p>  <p>□ :</p>
<p>5</p>  <p>□ :</p>	<p>6</p>  <p>□ :</p>

1:

2:

3:

4:

5:

6:

NOMBRE:

FECHA:

MS6

ÁREA DE INTERVENCIÓN: Escritura y M.semántica.

M2

INSTRUCCIONES: Escribe la hora que marca el reloj.

1



2



3



4



5



6



1:

2:

3:

4:

5:

6:

NOMBRE:

FECHA:

MS6

ÁREA DE INTERVENCIÓN: Escritura y M.semántica.

M3

INSTRUCCIONES: Escribe la hora que marca el reloj.

1



2



3



4



5



6



1:

2:

3:

4:

5:

6:

NOMBRE:

FECHA:

MS6

ÁREA DE INTERVENCIÓN: Escritura y M.semántica.

D1

INSTRUCCIONES: Escribe la hora que marca el reloj.

1



2



3



4



5



6



1:

2:

3:

4:

5:

6:

NOMBRE:

FECHA:

MS6

ÁREA DE INTERVENCIÓN: Escritura y M.semántica.

D2

INSTRUCCIONES: Escribe la hora que marca el reloj.

1



2



3



4



5



6



1:

2:

3:

4:

5:

6:

NOMBRE:

FECHA:

MS6

ÁREA DE INTERVENCIÓN: Escritura y M.semántica.

D3

INSTRUCCIONES: Escribe la hora que marca el reloj.

1



⋮

2



⋮

3



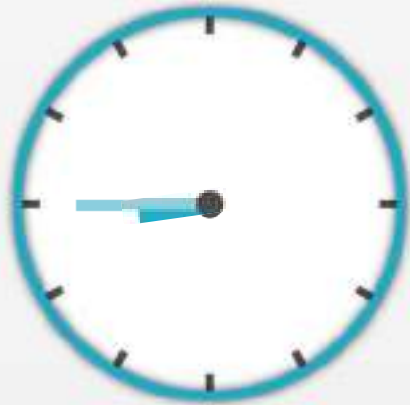
⋮

4



⋮

5



⋮

6



⋮

1:

2:

3:

4:

5:

6:

NOMBRE:

FECHA:

MS6

ÁREA DE INTERVENCIÓN: Escritura y M.semántica.

A1

INSTRUCCIONES: Escribe la hora que marca el reloj.

1



:

2



:

3



:

4




:

5



:

6



:

1:

2:

3:

4:

5:

6:

NOMBRE:

FECHA:

MS6

ÁREA DE INTERVENCIÓN: Escritura y M.semántica.

A2

INSTRUCCIONES: Escribe la hora que marca el reloj.

1



:

2



:

3



:

4



:

5



:

6



:

1:

2:

3:

4:

5:

6:

NOMBRE:

FECHA:

MS6

ÁREA DE INTERVENCIÓN: Escritura y M.semántica.

A3

INSTRUCCIONES: Escribe la hora que marca el reloj.

1



:

2



:

3



:

4




:

5



:

6



:

1:

2:

3:

4:

5:

6: