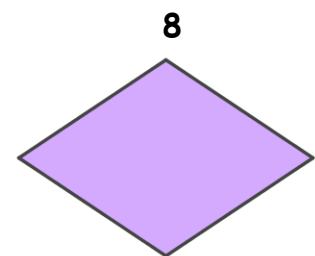
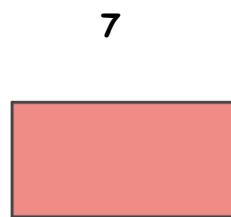
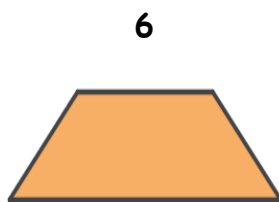
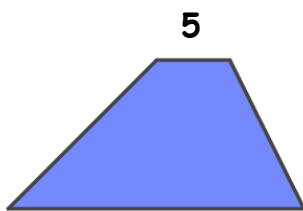

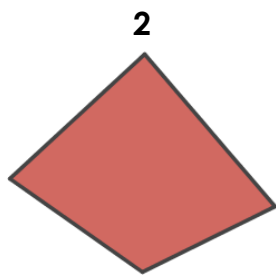


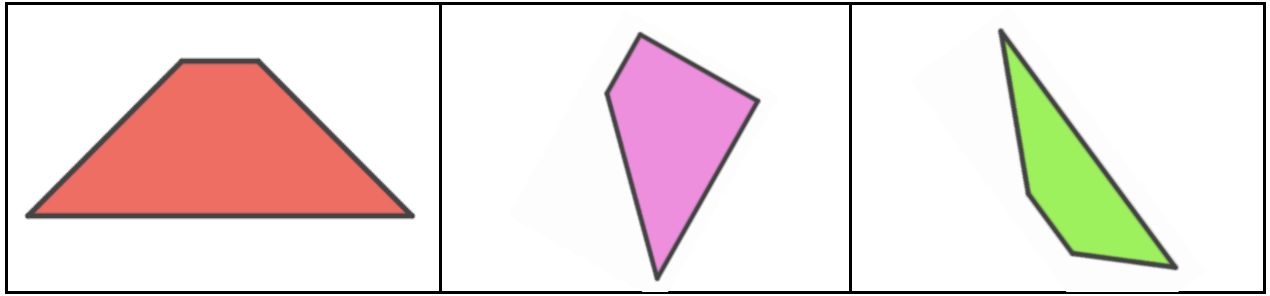
CLASSIFICACIÓ DE QUADRILÀTERS II

1. Observa aquests quadrilàters. Escull l'opció correcta.



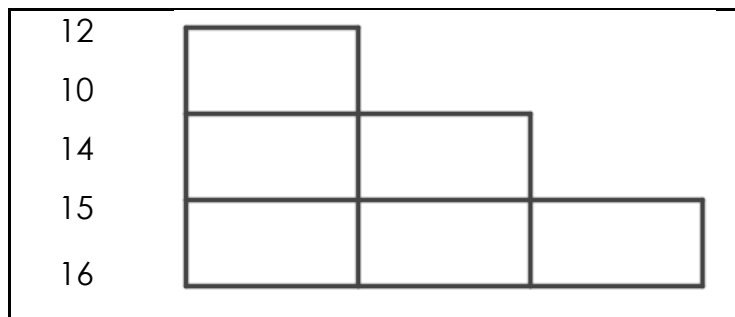
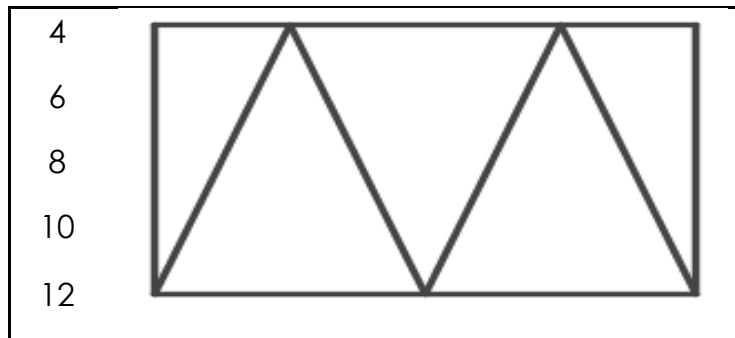
	1	2	3	4	5	6	7	8
Els quatre costats són iguals								
Només té dos costats paral·lels								
Els quatre angles són rectes								
Els quatre costats són diferents								
Els angles són iguals dos a dos								

2. Uneix cada trapezi amb el seu nom:




TRAPEZI RECTANGLE	TRAPEZI ISÒSCELES	TRAPEZI ESCALÈ
-------------------	-------------------	----------------

3. Quants quadrilàters hi ha en cada cas?



4. Escriu dins de cada polígon el nombe que correspon segon la clau que s'indica a sota.



1. És un trapezoide.
2. És un trapezi.
3. És un romboide.
4. És un rombe.
5. És un rectangle.
6. És un quadrat.

5. Llegeix les definicions següents i completa el mot encreuat:

1. Té els costats paral·lels dos a dos i tots iguals. Té els angles iguals dos a dos.
2. Té els costats paral·lels dos a dos i tots iguals. Té tots els angles iguals.
3. Té els costats paral·lels dos a dos i iguals dos a dos. Té tots els angles iguals.
4. No té costats paral·lels.
5. Té només dos costats paral·lels.
6. Té els costats paral·lels dos a dos i iguals dos a dos. Té els angles iguals dos a dos.

